



Nombre _____

Educators: Please remember to use the script provided to administer this assessment.

<input type="checkbox"/> 1 1 punto	1 Marcos plantó 12 flores el lunes. Plantó 7 flores más el martes. ¿Cuántas flores plantó Marcos?
<input type="checkbox"/> 2 1 punto	2 $\square - 8 = 9$
<input type="checkbox"/> 3a 1 punto respuesta <input type="checkbox"/> 3b 1 punto estrategia	3 En el patio de la escuela había 9 niños en los columpios. 7 niños estaban en fila esperando su turno en el tobogán. ¿Cuántos niños había en el patio?

Nombre _____

Teachers: Please remember to use the script provided to administer this assessment.



<p><input type="checkbox"/> 4 1 punto</p>	<p>4</p> <p> </p> <p>¿Cuántas formas hay? _____</p> <p>¿Cuál de estas frases numéricas representan las formas? Señala tu respuesta con un círculo.</p> <p>A $8 + 6 = 14$</p> <p>B $8 + 5 = 13$</p> <p>C $7 + 6 = 13$</p> <p>D $9 + 5 = 14$</p>
<p><input type="checkbox"/> 5a 1 punto respuesta <input type="checkbox"/> 5b 1 punto estrategia</p>	<p>5</p> <p>Eduardo preparó 13 galletas. Mónica preparó 6 galletas. ¿Cuántas galletas preparó Mónica menos que Eduardo?</p>

Nombre _____

<input type="checkbox"/> 6 1 punto	6 Kendra cazó 15 insectos. 8 de ellos se escaparon. ¿Cuántos insectos tiene ahora?
<input type="checkbox"/> 7 1 punto	7 Miren esta oración numérica. $8 + 2 + 14 = 24$ Señalen con un círculo los números que hacen 10.
<input type="checkbox"/> 8a 1 punto <input type="checkbox"/> 8b 1 punto explicación	8 Corten el sándwich para que 4 niños puedan compartirlo igualmente. ¿Qué otro nombre tienen estas partes iguales? Muéstrame or dime cómo sabes que son partes iguales.

_____/11 Total Points

Kindergarten Assessment #9 Paper Sandwich to cut.



Paper Sandwich to cut.

Kindergarten Assessment #9

